

GEOGRAFSKA OBILJEŽJA HRVATSKE (1. DIO)

1. OBJASNITE SLJEDEĆE POJMOVE.

- DRŽAVNOST –
- SUVERENITET –
- MEĐUNARODNO PRIZNANJE –
- TRANZIT –
- EPIKONTINENTALNI POJAS –
- TERITORIJALNO MORE –
- UNUTARNJE MORE –

2. ODREDITE TOČNOST TVRDNJI. ZAOKRUŽITE SLOVO T AKO JE TVRDNJA TOČNA, A SLOVO N AKO JE TVRDNJA NETOČNA.

U Hrvatskoj se isprepliću utjecaji triju kulturno-civilizacijskih krugova.	T	N
Hrvatska je međunarodno priznata 1991. godine.	T	N
Hrvatska je međunarodno priznata 1992. godine.	T	N
Hrvatska je međunarodno priznata u 20. stoljeću.	T	N
Hrvatska je međunarodno priznata u 15. stoljeću.	T	N
Hrvatska je smještena na sjevernoj i istočnoj polutki.	T	N
Hrvatska je smještena na južnoj i istočnoj polutki.	T	N
Hrvatska je smještena na sjevernoj i zapadnoj polutki.	T	N
Geografski položaj određuje se na geografskoj mreži.	T	N
Phyrinski pravac povezuje luku Ploče s državama srednje Europe.	T	N
Phyrinski pravac povezuje Zagreb i Split s državama srednje Europe.	T	N
Podravski pravac najvažniji je prometni pravac u Hrvatskoj.	T	N
Posavski pravac najvažniji je prometni pravac u Hrvatskoj.	T	N
Osijek se nalazi na križanju posavskog i podravskog prometnog pravca.	T	N
Zagreb se nalazi na križanju posavskog i phyrinskog prometnog pravca.	T	N
Karlovac se nalazi na jadransko-jonskom prometnom pravcu.	T	N

Epikontinentalni pojas čini granicu između dviju država na moru.	T	N
Epikontinentalni pojas središnji je dio mora izvan prostora teritorijalnog mora.	T	N
Površina Hrvatske iznosi 56 594 km ² .	T	N
Površina Hrvatske iznosi 56 942 km ² .	T	N
Najdužu kopnenu granicu Hrvatska ima s BiH.	T	N
Najdužu kopnenu granicu Hrvatska ima s Mađarskom.	T	N
Hrvatska s Italijom granični na kopnu.	T	N
Hrvatska s Italijom graniči na moru.	T	N
Hrvatska s Italijom ne graniči na kopnu.	T	N

3. POVEŽITE LIJEVI I DESNI STUPAC. UPIŠITE ODGOVARAJUĆE SLOVO IZ LIJEVOG STUPCA NA PRAZNU CRTU ISPRED DESNOG STUPCA.

- Povežite kulturno-civilizacijske krugove s njihovim obilježjima.
 - istočnoeuropski/balkanski _____ katolicizam, Nijemci, Mađari
 - sredozemni _____ pravoslavlje, Srbi, Turci
 - srednjoeuropski _____ katolicizam, Talijani
_____ islam, Talijani, Srbi
- Povežite prometne pravce s prostorima koje povezuju.
 - posavski _____ Italija, Slovenija, BiH, Crna Gora, Albanija i Grčka
 - jadransko-jonski _____ zapadna i središnja Europa s JI Europom
 - pyrinski _____ Mađarska sa Zagrebom i Rijekom
_____ središnja Europa sa Zagrebom i Splitom
- Povežite prometne pravce s prostorima koje povezuju.
 - posavski _____ Italija, Slovenija, BiH, Crna Gora, Albanija i Grčka
 - jadransko-jonski _____ zapadna i središnja Europa s JI Europom
 - slavonsko-bosansko-neretvanski _____ srednja Europa s Pločama
_____ središnja Europa sa Zagrebom i Splitom

4. U SLJEDEĆIM ZADATCIMA JEDAN JE TOČAN ODGOVOR. ZAOKRUŽITE TOČAN ODGOVOR.

A. Koja je najvažnija riječna luka na Dravi?

Osijek Vukovar Županja Sisak

B. Koja je najvažnija riječna luka na Savi?

Osijek Vukovar Županja Sisak

C. Koja je najvažnija riječna luka na Dunavu?

Osijek Vukovar Županja Sisak

D. Koja je najveća riječna luka u Hrvatskoj?

Osijek Vukovar Županja Sisak
Zagreb

E. Na kojoj se rijeci nalazi naša najveća riječna luka?

na Dravi na Savi na Cetini na Dunavu

F. Zaokruži slovo ispred tvrdnje koja najbolje opisuje važnost hrvatskog prometnog praga.

- a. Najkraćim putem povezuje panonski i predalpski prostor.
- b. Najkraćim putem povezuje panonski i crnomorski prostor.
- c. Najkraćim putem povezuje jadranski i panonski prostor.
- d. Preko njega prolazi slavonsko-bosansko-neretvanski pravac.

5. U SLJEDEĆIM ZADATCIMA DVA SU TOČNA ODGOVORA. ZAOKRUŽITE TOČNE ODGOVORE.

A. Odredi geografski položaj Hrvatske zaokruživanjem odgovarajućih pojmova.

balkanska srednjoeuropska istočnoeuropska
zapadnoeuropska sredoziemna

B. Narod čiji kulturni utjecaji dolaze u sklopu srednjoeuropskog kulturno-civilizacijskog kruga jesu:

Mađari Srbi Nijemci Albanci
Poljaci

C. Narodi čiji kulturni utjecaji dolaze u sklopu jugoistočno-europskog kulturno-civilizacijskog kruga jesu:

Mađari

Srbi

Nijemci

Talijani

Turci

D. Koje su dvije zračne luke s najvećim prometom putnika?

Split

Osijek

Zadar

Dubrovnik

Zagreb

E. U kojim se gradovima nalaze međunarodne zračne luke?

u Karlovcu

u Zadru

u Slavonskom Brodu

u Vukovaru u

Rijeci

F. S kojim dvjema državama Hrvatska ima najdužu kopnenu granicu?

sa Srbijom

s BiH

sa Slovenijom

s Crnom Gorom

s

Mađarskom

6. SLJEDEĆE ZADATKE RIJEŠITE UZ POMOĆ PRILOŽENE KARTE.



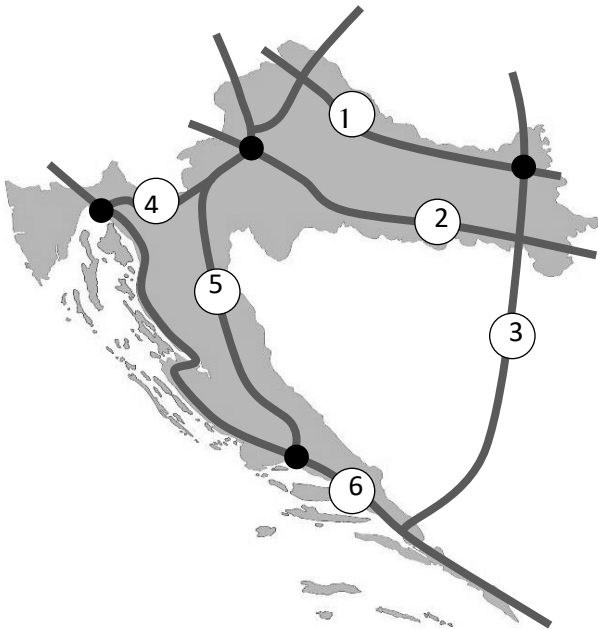
A. U prazne strelice na karti upišite nazive triju kulturno-civilizacijskih krugova koji su utjecala na prostor Hrvatske.

B. Upišite slova koja označavaju kulturno-civilizacijske krugove u odgovarajuće strelice:

A – srednjoeuropski B – sredozemni C – jugoistočnoeuropski/balkanski

7. RIJEŠITE ZADATKE UZ POMOĆ KARTE NA KOJOJ SU PRIKAZANI PROMETNI PRAVCI U HRVATSKOJ.

- a. Phyrinski prometni pravac prikazan je brojem _____, a spada u _____ . (*upišite vrstu prometnog pravca*)
- b. Zaokružite grad koji se nalazi na phyrinskom prometnom pravcu (*jedan je odgovor točan*).
1. Rijeka Osijek Split
- c. Prometni pravac koji povezuje zapadnu i središnju Europu s jugoistočnom Europom prikazan je brojem _____.
- d. Upišite naziv prometnog pravca prikazanog brojem 6: _____ .



B.

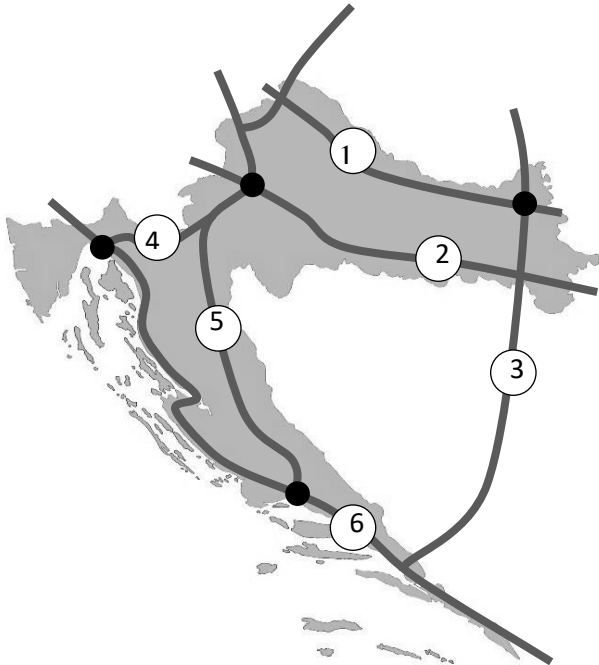
- a. Podravski prometni pravac prikazan je brojem _____, a spada u _____ . (*upišite vrstu prometnog pravca*).
- b. Zaokružite grad koji se nalazi na podravskom prometnom pravcu (*jedan je odgovor točan*).

Split

Varaždin

Zagreb

- c. Prometni pravac koji spaja središnju Europu, BiH i hrvatsku luku Ploče označen je brojem ____.
- d. Upišite naziv prometnog pravca označenog brojem 5: ____ .



C.

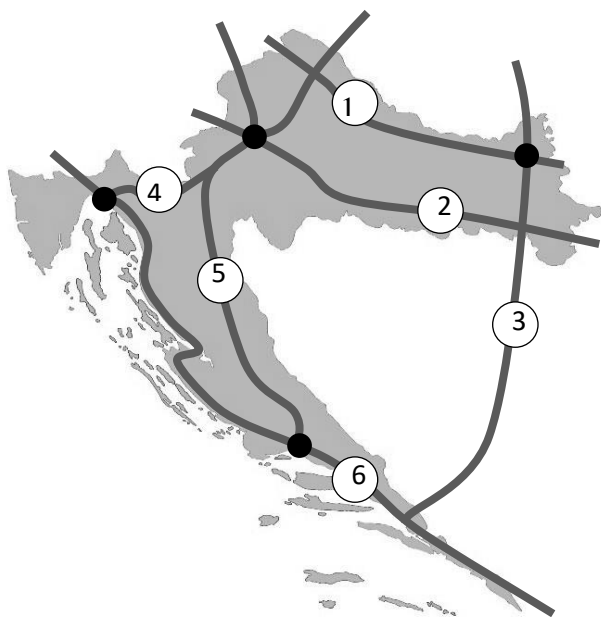
- a. Posavski prometni pravac prikazan je brojem _____, a spada u _____ (*upišite vrstu prometnog pravca*).
- b. Zaokružite grad koji se nalazi na posavskom prometnom pravcu (*jedan je odgovor točan*).

Varaždin

Rijeka

Sisak

- c. Prometni pravac koji spaja Mađarsku sa Zagrebom i lukom Rijeka označen je brojem _____.
- d. Upišite naziv prometnog pravca označenog brojem 1: _____ .



D.

a. Slavonsko-bosansko-neretvanski prometni pravac prikazan je brojem ____, a spada u _____ (*upišite vrstu prometnog pravca*).

b. Zaokružite grad koji se nalazi na slavonsko-bosansko-neretvanskom prometnom pravcu (*jedan je odgovor točan*).

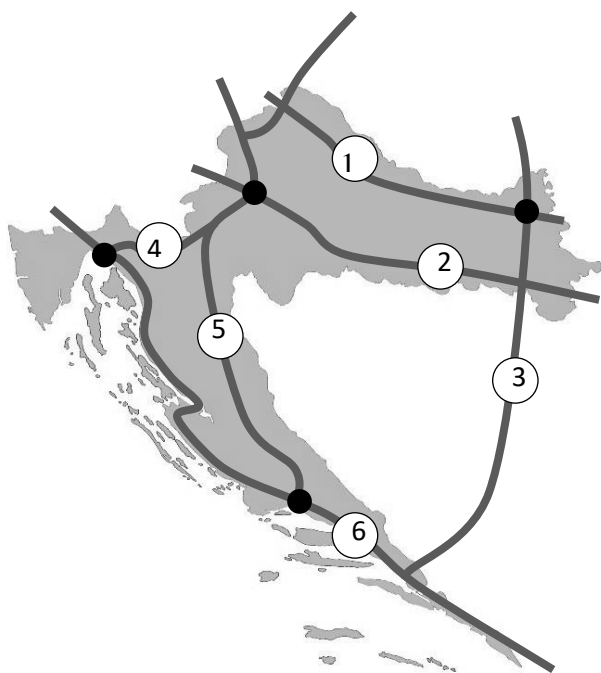
Vukovar

Varaždin

Sisak

c. Prometni pravac koji spaja zapadnu i središnju Europu s jugoistočnom Europom označen je brojem ____.

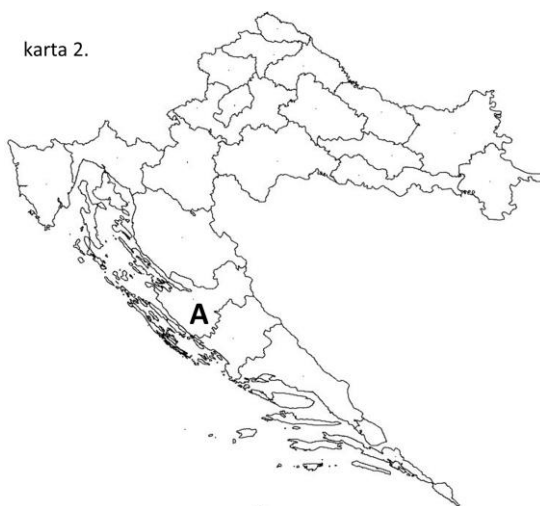
d. Upišite naziv prometnog pravca označenog brojem 2: _____.



8. SLJEDEĆE ZADATKE RIJEŠITE UZ POMOĆ PRILOŽENE KARTE HRVATSKIH ŽUPANIJA.



1. Navedite ime županije označene slovom A. _____
2. Upišite broj 1 na prostor Sisačko-moslavačke županije.
3. Upišite broj 2 na prostor Primorsko-goranske županije.
4. Navedite ime županije koja graniči s Mađarskom i Slovenijom.



1. Navedite ime županije označene slovom A.

2. Upišite broj 1 na prostor Sisačko-moslavačke županije.
3. Upišite broj 2 na prostor Primorsko-goranske županije.
4. Navedite ime županije koja graniči s Bosnom i Hercegovinom i Slovenijom.

karta 3.



1. Navedite ime županije označene slovom A. _____
2. Upišite broj 1 na prostor Sisačko-moslavačke županije.
3. Upišite broj 2 na prostor Primorsko-goranske županije.
4. Navedite ime županije koja nema granicu nit s jednom susjednom državom.

DOPUNI SLIJEDEĆE REČENICE:

Hrvatska se nalazi na _____ i _____ Zemljinoj polutki.

1. Samostalnost i organizacija vlasti koju čine države nazivamo _____.
2. Samostalnost i nezavisnost države u vanjskim i unutarnjim poslovima nazivamo _____.
3. Priznanje državnosti od drugih suvremenih država nazivamo _____.
4. Kulturno-civilizacijski krugovi koji utječu na prostor Hrvatske su:
_____.
5. Prijevoz robe ili putnika između dviju država preko teritorija država koji se nalaze između njih nazivamo _____.
6. Najvažnija riječna luka na Dravi je _____.
7. Najvažnija riječna luka na Savi je _____.
8. Najvažnija riječna luka na Dunavu je _____.
9. Najveća riječna luka u Hrvatskoj je _____.
10. Rijeka na kojoj se nalazi naša najveća riječna luka je _____.
11. Gradovi u kojim se nalaze međunarodne zračne luke su: _____.
12. Uzdužni prometni pravci koji prolaze kroz Hrvatsku su: _____.
13. Poprečni prometni pravci koji prolaze kroz Hrvatsku su: _____.
14. Najkraću vezu u Hrvatskoj između srednje Europe i Jadranskog mora nazivamo hrvatski _____.
15. Države s kojima Hrvatska ima kopnenu granicu su:
_____.

16. Država s kojom Hrvatska graniči prema moru je _____.
17. Država s kojom Hrvatska ima najdužu kopnenu granicu je _____.
18. Država s kojom Hrvatska ima najkraću kopnenu granicu je _____.
19. Oblik hrvatskog teritorija nazivamo _____.
20. More koje čine unutarnje i teritorijalno more nazivamo _____.
21. Dio mora između obale kopna i krajnjih točaka otoka i poluotoka nazivamo _____.
22. Morski prolaz širok 12 nautičkih milja od unutarnjeg mora prema obali nazivamo _____.
23. Hrvatska se sastoji od ukupno ____ županije.
24. Upravno-teritorijalne jedinice Hrvatske su: _____, _____ i _____.

21. KRATKO ODGOVORITE NA SLJEDEĆA PITANJA.

1. Nabrojite Zemljine polutke na kojima je smještena Hrvatska. *(2 boda)*
2. Navedite pojam koji označava samostalnost i organizaciju vlasti u državi. *(1 bod)*
3. Navedite pojam koji označava samostalnost i nezavisnost države u vanjskim i unutarnjim poslovima. *(1 bod)*
4. Navedite pojam koji označava priznanje državnosti od drugih suvremenih država. *(1 bod)*
5. Nabrojite kulturno-civilizacijske krugove koji utječu na hrvatski prostor. *(3 boda)*
6. Imenujte pojam koji označava prijevoz robe ili putnika između dviju država preko teritorija država koji se nalaze između njih. *(1 bod)*
7. Imenujte dvije pomorske luke u Hrvatskoj. *(2 boda)*
8. Imenujte dvije riječne luke u Hrvatskoj. *(2 boda)*
9. Imenujte dvije zračne luke u Hrvatskoj. *(2 boda)*
10. Nabrojite uzdužne prometne pravce koji prolaze kroz Hrvatsku. *(3 boda)*
11. Nabrojite poprečne prometne pravce koji prolaze kroz Hrvatsku. *(3 boda)*
12. Nabrojite države s kojima graniči Hrvatska. *(1 bod)*
13. Navedite naziv oblika hrvatskoga teritorija. *(1 bod)*
14. Koliko iznosi ukupna površina Hrvatske? *(1 bod)*

15. Koliko iznosi površina kopneno-otočnog dijela Hrvatske? (1 bod)

16. Nabrojite upravno-teritorijalne jedinice Hrvatske. (1 bod)

Na prazne crte ispod fotografija upišite odgovarajuće slovo koje prikazuje određenu prirodno-geografsku regiju Hrvatske.

A – Nizinska Hrvatska

B – Gorska Hrvatska

C – Primorska Hrvatska