

### III. PRIRODNA OBILJEŽJA HRVATSKE

- A. Što u Gorskoj Hrvatskoj, uz sječu i požare, predstavlja najveću prijetnju šumama?  
\_\_\_\_\_.
- B. Kako se zove pojava kada temperatura zraka s povećanjem visine raste umjesto da pada?  
\_\_\_\_\_.
- C. Na kojim se dvjema vrstama sedimentnih stijena u Hrvatskoj najčešće razvija krški reljef?  
\_\_\_\_\_.

### 2. DOPUNI REČENICE.

- A. Rijeke primorske Hrvatske pripadaju području \_\_\_\_\_ slijeva, dok rijeke kontinentalne Hrvatske utječu u rijeku \_\_\_\_\_ i dio su \_\_\_\_\_ slijeva.
- B. S obzirom na geografski položaj i raznolikost reljefa Hrvatsku dijelimo na tri prirodno-geografske cjeline: \_\_\_\_\_, \_\_\_\_\_ i \_\_\_\_\_ Hrvatska.
- C. Najniži reljefni oblici u Nizinskoj Hrvatskoj su \_\_\_\_\_ iznad kojih se izdižu reljefno viši i ocjediti reljefni oblici - \_\_\_\_\_. Treći reljefni oblik u Nizinskoj Hrvatskoj su \_\_\_\_\_, vrlo vrijedna poljoprivredna zemljišta.
- D. Dolinski oblici reljefa raščlanjeni su brojnim padinama ili dolinskim ravninama koje narod često naziva \_\_\_\_\_ ili \_\_\_\_\_.
- E. Najdulja rijeka u Hrvatskoj \_\_\_\_\_ izvire u \_\_\_\_\_. Plovna je od \_\_\_\_\_ sve do ušća u \_\_\_\_\_ i čini veliki dio Hrvatske Granice prema \_\_\_Bosni i Hercegovini\_\_\_.
- F. Rijeka Drava izvire u \_\_\_\_\_ i čini dio prirodne granice Hrvatske sa \_\_\_\_\_ i \_\_\_\_\_. Plovna je od \_\_\_\_\_ sve do ušća u \_\_\_\_\_ i čini veliki dio Hrvatske Granice prema \_\_\_\_\_.
- G. U poplavnim područjima Nizinske Hrvatske rasprostranjen je hrast \_\_\_\_\_, danas rijetko očuvan samo u močvarnim područjima, među kojima se ističe poznata \_\_\_\_\_ šuma. Na ocjeditim područjima Nizinske Hrvatske javlja se i hrast \_\_\_\_\_ te običan \_\_\_\_\_.
- H. Vlažne zračne mase u Hrvatsku dolaze iz smjera \_\_\_\_\_ i \_\_\_\_\_ (upisati strane svijeta), a najviše padalina ima \_\_\_\_\_ (upisati ime prirodne cjeline) Hrvatska.
- I. Na klimu Nizinske Hrvatske velik utjecaj ima \_\_\_\_\_, a pod utjecajem ovog klimatskog čimbenika količina padalina opada od \_\_\_\_\_ prema \_\_\_\_\_.

Razvodnica dvaju sljevova u Hrvatskoj prolazi vrhovima planina \_\_\_\_\_ i \_\_\_\_\_, a najbliža je moru kod mjesta \_\_\_\_\_.

### 3. ODREDI TOČNOST TVRDNJI. AKO JE TVRDNJA TOČNA, ZAOKRUŽI TOČNO, A AKO NIJE TOČNA, ZAOKRUŽI NETOČNO. AKO SMATRAŠ DA TVRDNJA NIJE TOČNA NA CRTU ISPOD ZADATKA TVRDNJU NAPIŠI TOČNO.

- A. Godišnja raspodjela padalina najviše pogoduje poljoprivrednoj proizvodnji u Primorskoj Hrvatskoj.

Točno – Netočno

B. Polja ispunjena flišnim nanosima bolje zadržavaju vodu od krških polja. Točno – Netočno

C. Velebit je najdulja, a Dinara najviša hrvatska planina. Točno – Netočno

D. U Primorskoj Hrvatskoj količina padalina opada od obale prema otocima. Točno – Netočno

E. Jugo puše kao ravnomjeran vjetar, dok bura puše na mahove . Točno – Netočno

F. Gorska Hrvatska najveću količinu padalina ima u jesen i zimu, a Nizinska u proljeće i jesen .

Točno – Netočno

G. Ograničene stepske površine u Hrvatskoj prisutne su samo još na zapadu Nizinske Hrvatske.

Točno – Netočno

H. Rijeke Nizinske Hrvatske bogatije su vodom od rijeka Primorske Hrvatske i imaju više potencijala za hidroenergetiko iskorištavanje. Točno – Netočno

I. Vransko jezero kod Biograda površinom je najveće jezero u Hrvatskoj, dok je Vransko jezero na Cresu vodom najbogatije jezero u Hrvatskoj. Točno – Netočno

#### **4. ZAOKRUŽI SLOVO ISPRED JEDNOG TOČNOG ODGOVORA. (Točan odgovor donosi 1 bod.)**

##### **A. Od navedenih krških polja u prostoru Like nije:**

- a. Krbavsko polje
- b. Gacko polje
- c. Koreničko polje
- d. Drežničko polje

##### **B. Najveći udio u površini Hrvatske zauzima:**

- a. nizinski reljef
- b. brežuljkasti reljef
- c. sredogorja
- d. planinski reljef

##### **C. Najveće valove na Jadranu uzrokuje vjetar:**

- a. maestral
- b. bura
- c. jugo

d. tramontana

**D. Najveće probleme u odvijanju prometa u Hrvatskoj uzrokuje vjetar:**

- a. maestral
- b. bura
- c. jugo
- d. tramontana

**E. Za sportove na vodi najpogodniji je vjetar:**

- a. maestral
- b. bura
- c. jugo
- d. tramontana

**F. U Nizinskoj Hrvatskoj najviše hidroelektrana izgrađeno je na rijeci:**

- a. Muri
- b. Dravi
- c. Savi
- d. Dunavu
- e. Kupa

**H. Najdulja rijeka koja ima i izvor i ušće u Hrvatskoj je:**

- a. Drava
- b. Sava
- c. Kupa
- d. Cetina
- e. Krka
- f. Krkava

**I. Jedina rijeka u Hrvatskoj koja je plovna cijelom duljinom svoga toka je:**

- a. Drava
- b. Sava
- c. Kupa
- d. Cetina
- e. Krka
- f. Neretva

**5. ZAOKRUŽI SLOVA ISPRED DVA TOČNA ODGOVORA.**

**A. Među navedenim gorama Požešku kotlinu ne zatvara:**

- a. Dilj
- b. Krndija

- c. Kalnik
- d. Papuk
- e. Bilogora
- f. Psunj

**7. U SLJEDEĆIM ZADATCIMA U PAROVIMA POJMOVA KOJI SU PODEBLJANI I ODVOJENI KOSIM CRTAMA ZAOKRUŽI ONE POJMOVE KOJI SU TOČNI. (Svaka u potpunosti točna rečenica donosi 1 bod.)**

- A.** U reljefu pobrđa izdvajamo južne **prisojne/osojne** padine ili **prigorja/podgorja** te sjeverne **prisojne/osojne** padine ili **prigorja/podgorja**.
- B.** Bura je **hladan/topao** i **suh/vlažan** vjetar koji najčešće puše od **sjeveroistoka/sjeverozapada** prema **jugozapadu/jugoistoku**.
- C.** Prirodna cjelina Primorska Hrvatska obuhvaća oko **trećine/četvrtine** teritorija Hrvatske i oko **trećine/četvrtine** stanovništva Hrvatske.
- D.** Prirodna cjelina Gorska Hrvatska najmanja je prirodna cjelina u Hrvatskoj koja obuhvaća **4/14** % teritorija i **2/12** % stanovništva Hrvatske.
- E.** Prirodna cjelina Nizinska Hrvatska najveća je prirodna cjelina u Hrvatskoj koja obuhvaća **45/54** % teritorija i **67/77** % stanovništva Hrvatske.

**9. POVEŽI LIJEVI I DESNI STUPAC TAKO DA NA PRAZNU CRTU U DESNOM STUPCU UPIŠEŠ SAMO JEDNO ODGOVARAJUĆE SLOVO IZ LIJEVOG STUPCA. JEDAN POJAM/OPIS U DESNOM STUPCU JE SUVIŠAN.(**

**F.**

**G. A. Poveži poloj s rijekom kojoj pripada.**

**H.** a. Crnac polje \_\_\_\_\_ Kupa

**I.** b. Crna Mlaka \_\_\_\_\_ Drava

**J.** c. Kopački rit \_\_\_\_\_ Sava

**K.**

**L. B. Poveži poloj s vrstom privrednog iskorištavanja.**

**M.** a. Lonjsko polje \_\_\_\_\_ isušeno i poljoprivredno obradivo

**N.** b. Jelas-polje \_\_\_\_\_ ribnjaci

**O.** c. Crnac-polje \_\_\_\_\_ ornitološki rezervat

\_\_\_\_\_ park prirode

**D. Poveži vrstu opisana obilježja s krškim oblicima.**

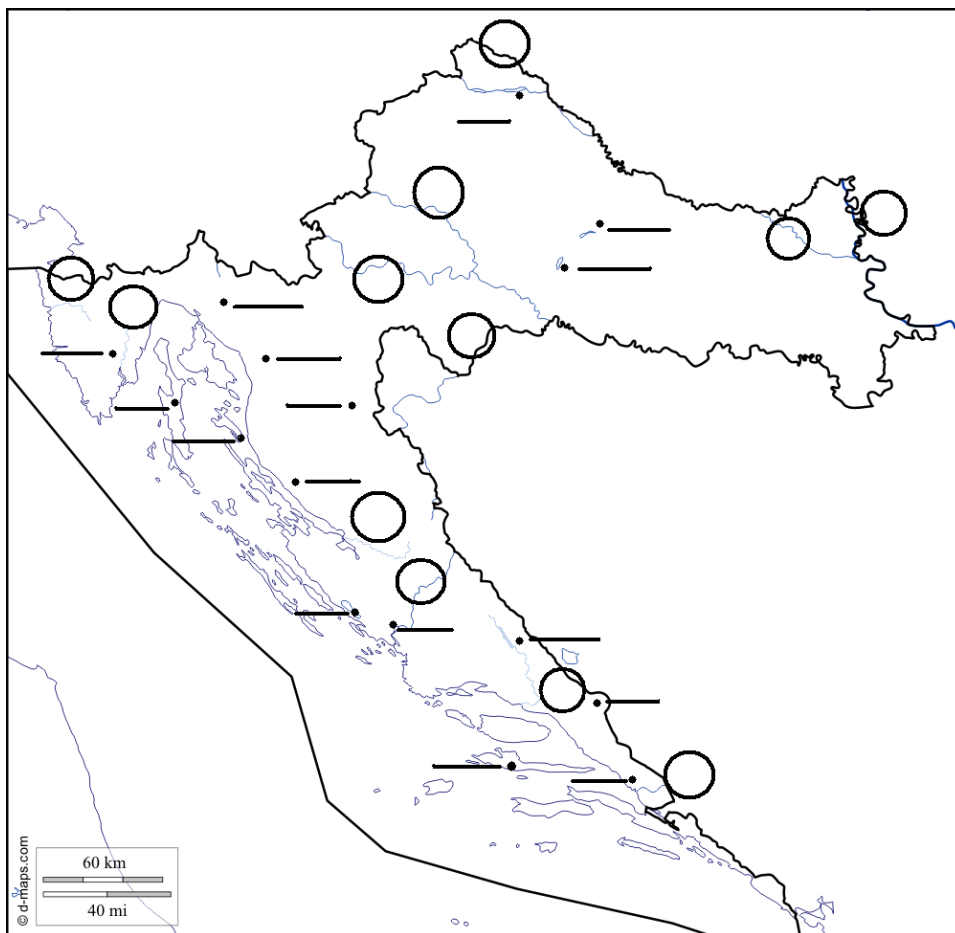
a. žljebovi oštih rubova na površini krških padina \_\_\_\_\_ kamenice

b. okomita podzemna udubljenja u kršu \_\_\_\_\_ špilje

c. manja plitka udubljenja na mjestima zadržavanja kišnice \_\_\_\_\_ jame

d. veća ljevkaasta udubljenja u kršu često prekrivena crvenicom \_\_\_\_\_ škrape

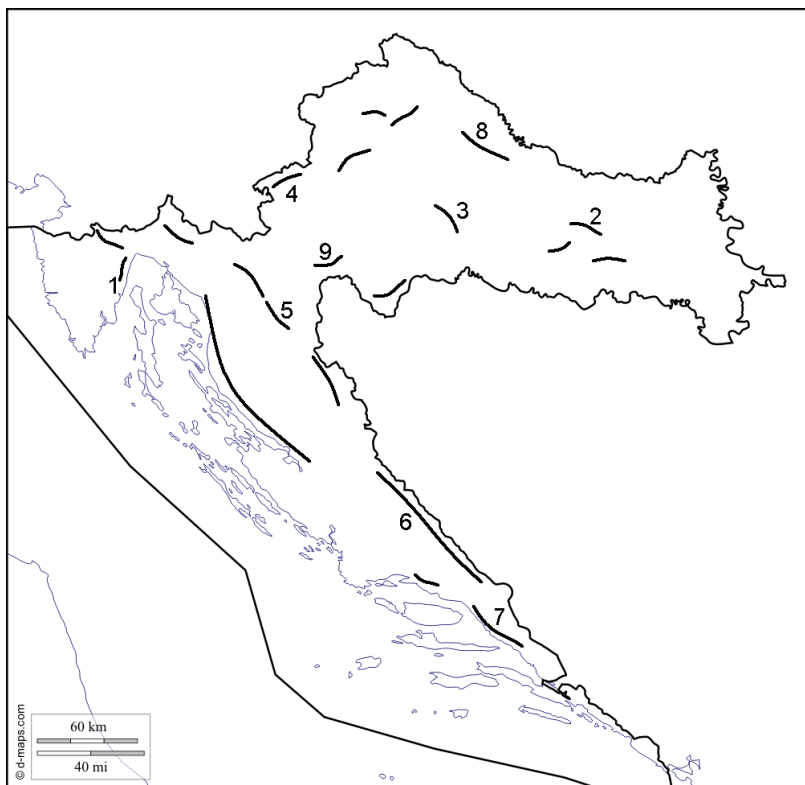
\_\_\_\_\_ ponikve



**SLJEDEĆE ZADATAKE RIJEŠI UZ POMOĆ PRILOŽENE GEOGRAFSKE KARTE.** (Svaka u potpunosti točno dopunjena rečenica i točno ucrtan pojam donosi po 1 bod.)

**A. Dopuni rečenice nazivima gorja i planina.**

- a. Brojem 1 označena je planina \_\_\_\_\_.
- b. Brojem 2 označena je gora \_\_\_\_\_.
- c. Brojem 3 označena je \_\_\_\_\_ gora.
- d. Brojem 4 označeno je \_\_\_\_\_ gorje.
- e. Brojem 5 označena je planina \_\_\_\_\_.
- f. Brojem 6 označena je planina \_\_\_\_\_.
- g. Brojem 7 označena je planina \_\_\_\_\_.
- h. Brojem 8 označena je gora \_\_\_\_\_.
- i. Brojem 9 označena je \_\_\_\_\_ gora.



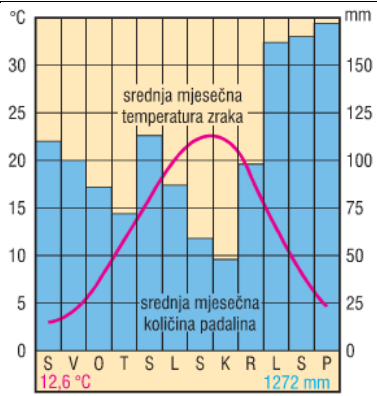
**12. SLJEDEĆI ZADATA RIJEŠI UZ POMOĆ PRILOŽENIH KLIMADIJAGRAMA.** (Svaka u potpunosti točno dopunjena rečenica donosi 1 bod.)

**A. Dopuni rečenice nazivima pripadajućih klima u Hrvatskoj.**

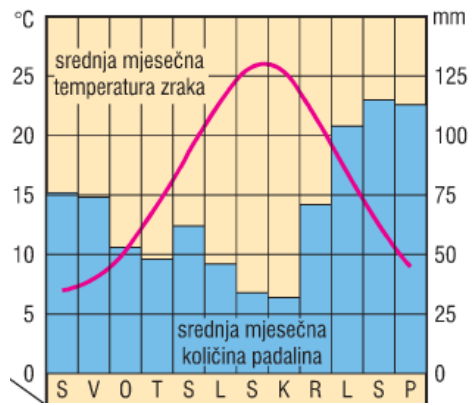
- a. Klimadijagram A prikazuje klimu - \_\_\_\_\_.
- b. Klimadijagram B prikazuje klimu - \_\_\_\_\_.
- c. Klimadijagram C prikazuje klimu - \_\_\_\_\_.
- d. Klimadijagram D prikazuje klimu - \_\_\_\_\_.

**B. Dopuni rečenice točnim odgovorima.**

- a. Najveću godišnju količinu padalina ima klimadijagram \_\_\_\_\_.
- b. Najmanju godišnju količinu padalina ima klimadijagram \_\_\_\_\_.
- c. Najvišu srednju mjesečnu temperaturu zraka ima klimadijagram \_\_\_\_\_.
- d. Najnižu srednju mjesečnu temperaturu zraka ima klimadijagram \_\_\_\_\_.



**Klimadijagram A**



**Klimadijagram B**

