

USPON GRČKE



| Uspon Grčke

● Pored priloženih simbola upiši nazive sljedećih gradova:

- a) Sparta
- b) Atena
- c) Troja
- d) Mikena
- e) Knos
- f) Delfi
- g) Milet.

● Zaokruži otok Kretu.

● Strelicama označi smjerove širenja grčke kolonizacije.

● Na iste strelice upiši proizvode kojima su Grci trgovali.

● Iscrtkaj poluotok na kojem se odigrala bitka na Maratonskom polju. Kako se nazivaj taj poluotok?

● Koja se disciplina održava na Olimpijskim igrama u čast te bitke? _____

● Koja je osnovna razlika između ustroja vlasti u Sparti i Ateni?

● Tko je otkrio Troju? _____

● Znakom X na karti označi najvišu grčku planinu i istoimeni vrh.

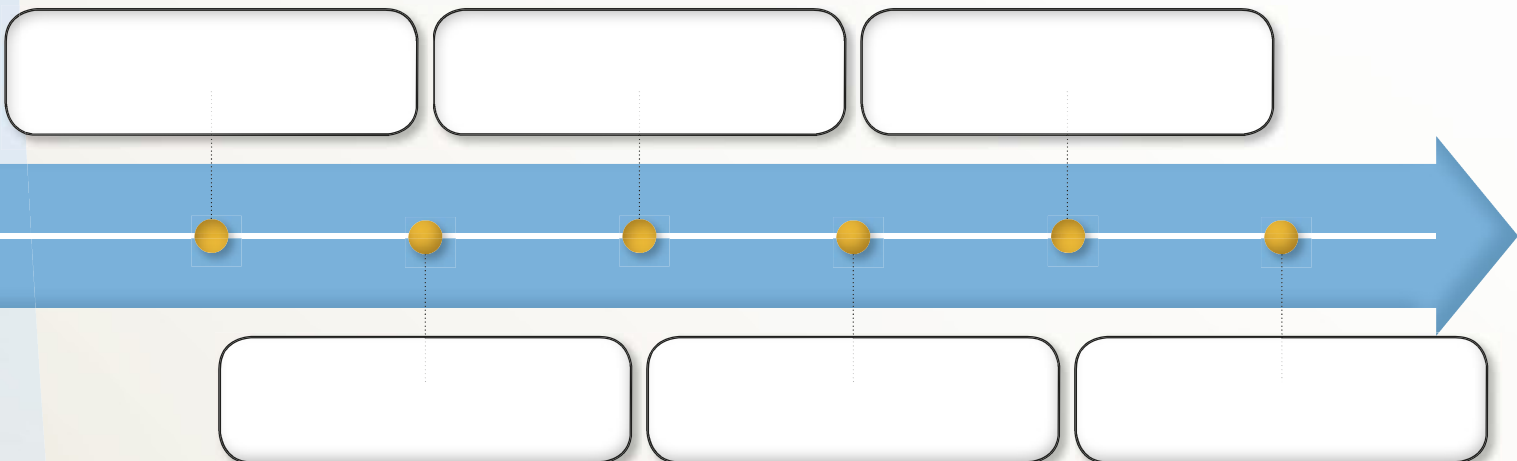
● Što su Grci smatrali da se nalazi na tom vrhu? _____

● Zaokruži ime grada koji je imao najbolju kopnenu vojsku.

● Na priložene crte upiši imena dviju država koje su graničile s grčkim svijetom.

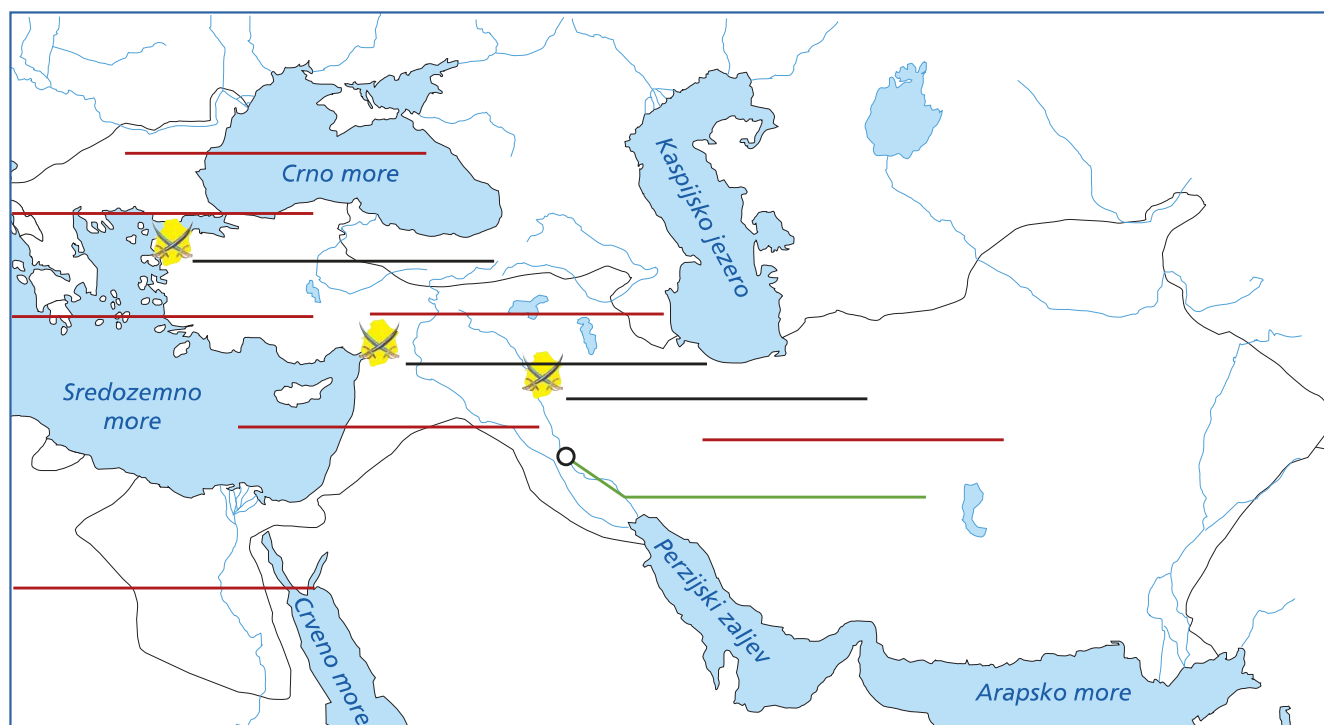
● Na crtu vremena kronološki poredaj ponuđene događaje.

- a) Prve Svete igre
- b) Bitka kod Termopila
- c) Periklovo doba
- d) Peloponeski rat
- e) Bitka na Maratonskom polju
- f) Bitka kod Plateje



● Zašto Grci dolaze u sukob sa svojim susjedima? _____

KRALJEVSTVO ALEKSANDRA VELIKOG



| Kraljevstvo Aleksandra Velikog

- Na priloženoj karti, pored naznačenih simbola, upiši imena mjesta Aleksandrovih najvećih bitaka.
- Na zelenu crtu upiši ime grada u kojem je Aleksandar umro i zaokruži ga zelenom bojom.
- Strelicom označi plan Aleksandrova osvajanja.
- Na crvene crte upiši imena pokrajina:
 - a) Egipat
 - b) Armenija
 - c) Sirija
 - d) Trakija
 - e) Medija
 - f) Makedonija
 - g) Grčka.
- Plavom bojom podebljaj rijeku na kojoj je okončan Aleksandrov pohod na istok.
- Na pripadajuće mjesto upiši ime grada koji je Aleksandar nazvao svojim imenom, a postoji još i danas.
- Koji se spomenik nalazio na ulazu u lučki dio tog grada? _____
- Podebljaj granice Aleksandrova kraljevstva.

- Promatrajući kartu, zaključi što je Aleksandru pomoglo u uspješnim vojnim pohodima.

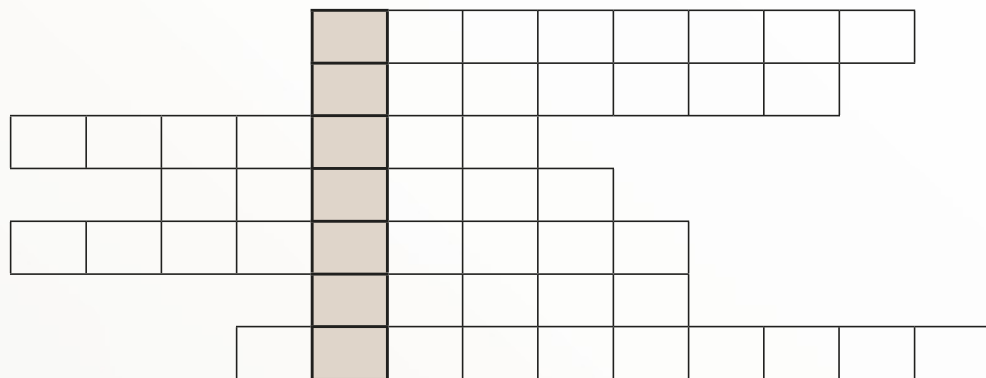
- Po kome je nazvan grad Bukefalija? _____

- Koje je najčešće ime Aleksandrovih osvojenih gradova? _____

- Riješi križaljku.

Vodoravno

1. Govori protiv Filipa II.
2. Poznati grčki matematičar i fizičar
3. Grad u kojem umire Aleksandar
4. Aleksandrova bitka koja se odigrala 334. g. pr. Kr.
5. Miješanje grčke i istočnjačke kulture
6. Bitkom kod Heroneje Filip II. osvojio je ... (jed.)
7. Naziv države kojom je Aleksandar vladao



- Pojasni značenje dobivenog ključnog pojma u križaljci: _____

- Promatrajući kartu, zaključi do kojih su promjena u kulturi dovela Aleksandrova osvajanja.
